

TEST WIEDZY - SZKOŁY PONADGIMNAZJALNE

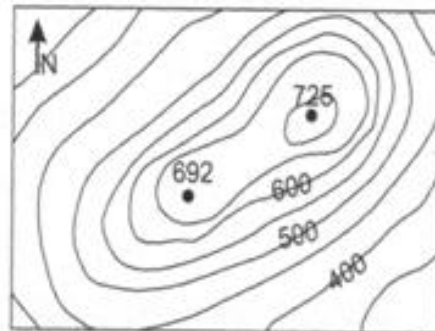
Poniżej znajduje się test, na napisanie którego masz 60 minut. W każdym zadaniu **tylko jedna odpowiedź** jest prawidłowa. Po rozwiązaniu testu wybrane odpowiedzi uważnie przenieś na kartę. Pamiętaj, że na karcie **nie dopuszcza się** wprowadzania poprawek.

1. W województwie lubelskim jest 41 miast. Ile wynosi wskaźnik urbanizacji dla tego województwa?
A) 61,5% B) 56, 4% C) 49,5% D) 46,5%
2. Kanał Wieprz-Krzna (najdłuższy w Polsce – 141 km) ma początek:
A) w Borowicy B) w Międzyrzecu Podlaskim C) w Krasnymstawie D) w Białej Podlaskiej
3. Jedno ze starożytnych centrów Europy, założone przez Gotów przybyłych z południowej Szwecji. Mieszcząca się tu chata gocka jest rekonstrukcją obiektu z IV w., odkrytego w Hrubieszowie Podgórzu.
A) Chodlik B) Kryłów C) Masłomęcz D) Mircze
4. Jan Zamoyski, kanclerz i hetman wielki koronny, wybitny mąż stanu, polityk, protektor uczonych i artystów, prawdziwy człowiek renesansu swoje „miasto idealne” – Zamość, założył w roku:
A) 1545 B) 1560 C) 1580 D) 1586
5. Który z muzyków urodził się w Lublinie?
A) Henryk Wieniawski C) Mieczysław Karłowicz
B) Ignacy Paderewski D) Stanisław Moniuszko
6. Kto był jednym z właścicieli renesansowego zamku z końca XVI w., którego ruiny można zobaczyć w Krupem?
A) Jacek Woroniecki B) Paweł Orzechowski C) Mikołaj Rej D) Wacław Rzewuski
7. Jaki obszar zajmuje powiat chełmski?
A) ok. 1686 km² B) ok. 1786 km² C) ok. 1886 km² D) ok. 1986 km²
8. W którym roku gminę Rejowiec włączono do powiatu chełmskiego?
A) 2003 B) 2004 C) 2005 D) 2006
9. Do powiatu chełmskiego nie należy gmina:
A) Wierzbica B) Kamień C) Urszulin D) Wojślawice
10. Region zwany „małym Roztoczem” to:
A) Obniżenie Dubienki C) Działy Grabowieckie
B) Obniżenie Dorohuckie D) Pagóry Chełmskie

11. Unikalne węglanowe torfowisko niskie włączono do Poleskiego Parku Narodowego to:
A) Bagno Bubnów B) Bagno Serebryskie C) Torfowisko Sobowice D) Bagno Brzeźno
12. Pomnikowy dąb szypułkowy w Hnieszowie nosi nazwę „Bolko” na cześć Bolesława:
A) Chrobrego B) Krzywoustego C) Trzewińskiego D) Prusa
13. Który z wymienionych rezerwatów powiatu chełmskiego jest rezerwatem ścisłym?
A) Stawska Góra B) Liski C) Roskosz D) Bachus
14. Jedyne na Lubelszczyźnie (jedno z 30 w Polsce) stanowisko storczyka o nazwie dwulistnik muszy występuje w rezerwacie:
A) Brzeźno B) Żmudź C) Liski D) Serniawy
15. Rezerwat „Siedliszcze” jest rezerwatem faunistycznym, stworzonym w celu ochrony miejsc lęgowych:
A) orła przedniego C) orlika krzykliwego
B) myszołowa zwyczajnego D) sępa kasztanowatego
16. Pełnik europejski, którego duża populacja występuje w rezerwacie Torfowisko Sobowice to:
A) roślina z rodziny jaskrowatych C) chrząszcz drapieźny
B) ptak wędrowny D) roślina z rodziny storczykowatych
17. Największy w powiecie gład narzutowy (obwód 8,4 m) z granitognejsu można obejrzyć:
A) w Pawłowie B) w Sawinie C) w Rejowcu D) w Rejowcu Fabrycznym
18. Jak miała na imię córka hetmana Józefa Sosnowskiego, o którą zabiegał młody Tadeusz Kościuszko podczas swojego pobytu w Sosnowicy?
A) Ludmiła B) Ludwika C) Katarzyna D) Kazimiera
19. Gdzie „mieszkał” Jakub Wędrowycz - fikcyjna postać literacka stworzona przez Andrzeja Pilipiuka, bohater serii ponad 60 humorystycznych opowiadań, cieszących się wielką popularnością w Polsce, tłumaczonych m.in. na język czeski i rosyjski?
A) w Majdanie Leśniowskim C) w Wojsławicach
B) w Majdanie Nowym D) w Majdanie Starym
20. Tajemnicza wieża w Stołpiu to najstarsza budowla w Polsce po prawej stronie Wisły (XII w.). Jaka jest jej wysokość mierzona wzdłuż ściany wschodniej?
A) ok. 13 m B) ok. 16 m C) ok. 19 m D) ok. 22 m
21. Grubość ścian wieży obronnej w Bielawinie (przełom XIII i XIV w.) dochodziła do:
A) ok. 0,5 m B) ok. 1 m C) ok. 1,6 m D) ok. 2 m
22. Dawna cerkiew unicka z końca XVIII wieku w Kurmanowie została przebudowana w 1925 roku na potrzeby:
A) szkoły B) kaplicy dworskiej C) kościoła rzymskokatolickiego D) mieszkalne

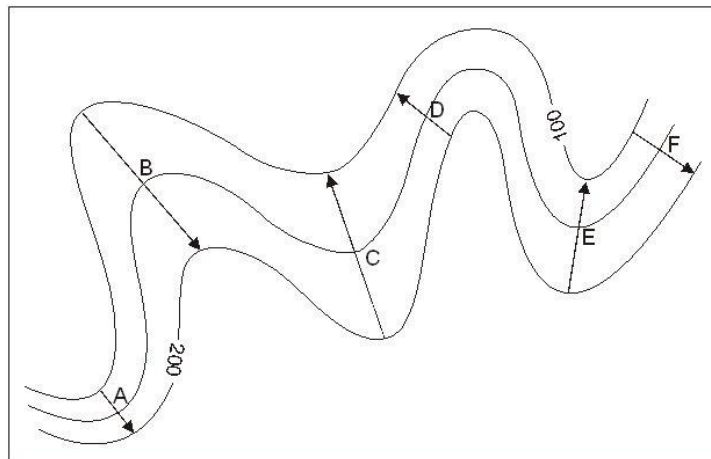
23. Jaka malowniczo położona miejscowość, należąca niewątpliwie do najstarszych w powiecie chełmskim, przed II wojną światową nosiła nazwę Spas?
 A) Podgórze B) Horodysko C) Kanie D) Czuleczyce
24. W jakim stylu wybudowano cerkiew prawosławną p.w. Św. Jana Teologa w Chełmie?
 A) barokowym B) klasycystycznym C) neoklasycystycznym D) neorenesansowym
25. W którym roku doprowadzono do Chełma Nadwiślańską Kolej Żelazną?
 A) 1867 B) 1877 C) 1897 D) 1910
26. Początki Osiedla „Dyrekcja” w Chełmie sięgają okresu międzywojennego. Ten niestety nieukończony projekt urbanistyczny był planowany z wielkim rozmachem. Ile pomieszczeń biurowych ma zwracający szczególną uwagę monumentalny Gmach?
 A) ponad 150 B) ok. 250 C) ponad 350 D) ok. 400
27. Jaki pułk stacjonował w Chełmie w okresie międzywojennym? Wśród jego dowódców byli m. in. płk Stanisław Dąbek i płk Władysław Muzyka.
 A) 7 pułk artylerii ciężkiej C) 4 pułk piechoty Legionów
 B) 7 pułk piechoty Legionów D) 8 pułk piechoty Legionów
28. W centralnej części cmentarza przy ulicy Lwowskiej w Chełmie znajduje się duża kwatera polskich żołnierzy poległych:
 A) w roku 1918 B) w latach 1919-1920 C) w roku 1939 D) w latach 1939-1944
29. Choć obecnie pozostały tylko nieliczne ślady po chełmskich Żydach, do II wojny światowej społeczność ta odgrywała dużą rolę w mieście. Gdzie jest symbolicznie odbudowany Cmentarz Żydowski w Chełmie?
 A) u zbiegu ulic Starościńskiej i Kolejowej C) przy ul. Okszowskiej
 B) przy ul. Lwowskiej D) przy ul. I Pułku Szwoleżerów
30. W którym roku odsłonięto w Chełmie, przy ul. Pocztowej pomnik upamiętnienia Polaków zamordowanych i zmarłych na zesłaniu w Rosji?
 A) 1989 B) 1996 C) 2004 D) 2007
31. Ks. Stanisław Staszic - wybitny przedstawiciel polskiego oświecenia, prezes Towarzystwa Przyjaciół Nauki i założyciel Towarzystwa Rolniczego w Hrubieszowie, zasłużony dla historii turystyki w Polsce, urodził się:
 A) w Pile B) w Hrubieszowie C) w Krakowie D) w Tarnowie
32. 27.10.1906 r. Warszawski Urząd Gubernialny zatwierdził statut PTK. Kto był jego pierwszym prezesem?
 A) Zygmunt Gloger B) Wincenty Pol C) Mariusz Zaruski D) Feliks Pławicki
33. GOT można zdobywać:
 A) tylko w polskich górach C) w wszystkich pasmach Sudetów i Karpat
 B) we wszystkich górach Europy D) w polskich górach oraz pasmach górskich Sudetów i Karpat w Czechach, Słowacji i na Ukrainie

34. Tatrzańskie Ochotnicze Pogotowie Ratunkowe (TOPR) Mariusz Zaruski założył:
 A) w 1908 r. B) w 1909 r. C) w 1910 r. D) w 1911 r.
35. W którym roku chełmski Oddział PTK-PTTK obchodził swoje 100-lecie?
 A) w 2008 B) w 2009 C) w 2010 D) w 2012
36. Znany polski kompozytor, jeden z pionierów polskiego taternictwa, działał w Towarzystwie Tatrzańskim, publikował artykuły z górskich wspinaczek, pasjonował się narciarstwem i fotografią. Zginął 8 II 1909 roku w lawinie śnieżnej na zboczach Małego Kościelca w Dolinie Gąsienicowej w Tatrach.
 A) Mieczysław Karłowicz C) Karol Szymanowski
 B) Jan Kasprówicz D) Stanisław Moniuszko
37. Ile punktów musiał zdobyć 17-latek w 2013 roku, aby otrzymać małą Górską Odznakę Turystyczną (GOT) w stopniu srebrnym?
 A) 300 B) 360 C) 420 D) 600
38. Za jednodniową wycieczkę rowerową do odznaki KOT zalicza się:
 A) 5 pkt. B) 10 pkt. C) 15 pkt. D) 20 pkt.
39. Która z wymienionych odznak nie jest przyznawana przez PTTK?
 A) InO B) „Turysta Przyrodnik” C) OFK D) „Korona Gór Polski”
40. Chełmski Oddział PTTK zorganizuje 22 marca 2014 roku Rajd Wiosenny już po raz:
 A) 27 B) 33 C) 37 D) 40
41. Stanowi szkielet konstrukcyjny mapy, wyznacza kierunki geograficzne.
 A) siatka geograficzna B) siatka kartograficzna C) siatka kwadratowa D) siatka przestrzenna
42. Międzynarodowy skrót (z języka angielskiego) SSW oznacza kierunek:
 A) południowy-wschód C) południowy południowy-wschód
 B) południowy-zachód D) południowy południowy-zachód
43. Jakiemu kierunkowi odpowiada azymut $22^{\circ}30'$?
 A) NE B) ENE C) NNE D) EEN
44. Aby z niższego szczytu wejść na wyższy, trzeba pokonać różnicy wysokości:
 A) 33 m
 B) 33 m n.p.m.
 C) 725 m
 D) 692 m n.p.m.



45. Która ze strzałek oznaczonych na rysunku poziomomicowym literami, wskazuje najłagodniejszą drogę w dół?

- A) B
- B) C
- C) D
- D) E



46. Rowerzyście zabrania się:

- A) jazdy bez trzymania co najmniej jednej ręki na kierownicy oraz nóg na pedałach lub podnóżkach
- B) korzystania z chodnika lub drogi dla pieszych, gdy opiekuje się on osobą w wieku do lat 10 kierującą rowerem
- C) korzystania z chodnika lub drogi dla pieszych, gdy szerokość chodnika wzdłuż drogi, po której ruch pojazdów dozwolony jest z prędkością większą niż 60 km/h, wynosi co najmniej 2 m i brak jest wydzielonej drogi dla rowerów

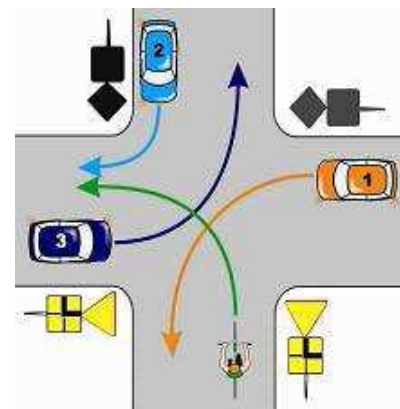
47. Na tak oznakowanej drodze manewr skrętu w lewo wykonasz ustawiając się przy:

- A) lewej krawędzi jezdni
- B) osi jezdni
- C) prawej krawędzi jezdni



48. W sytuacji przedstawionej na rysunku kierujący rowerem:

- A) ustępuje pierwszeństwa pojazdowi nr 1
- B) ustępuje pierwszeństwa pojazdowi nr 2
- C) ma pierwszeństwo przed pojazdem nr 3



49. W jakiej kolejności powinien nastąpić ruch pojazdów na tym skrzyżowaniu:

- A) C, A, B
- B) B, C, A
- C) A, B, C

